



**PRÁCTICA 1.1**

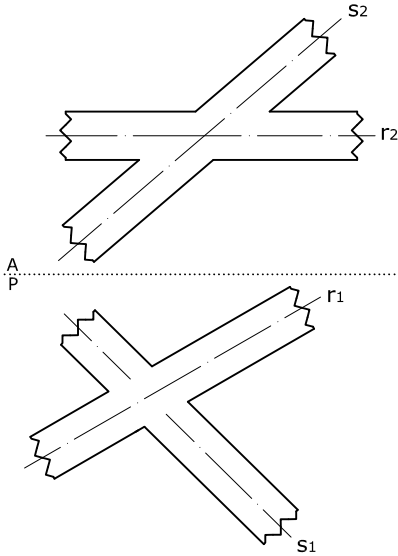
Realizar las operaciones gráficas que se indican en cada caso:

| Criterios de calificación     |     |
|-------------------------------|-----|
| Corrección del proceso        | 33% |
| Exactitud del resultado       | 33% |
| Expresión gráf. y visibilidad | 33% |

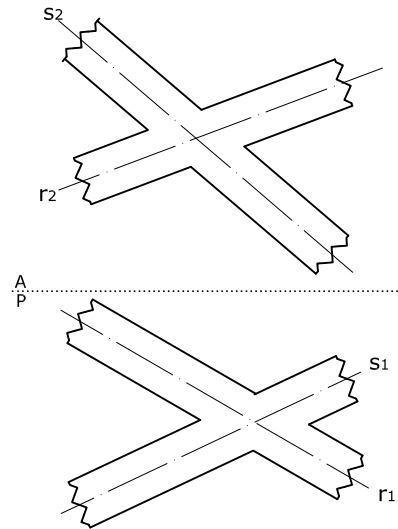
I. Representación geométrica de los elementos constructivos

Prof.: Víctor Manuel Grassa Miranda

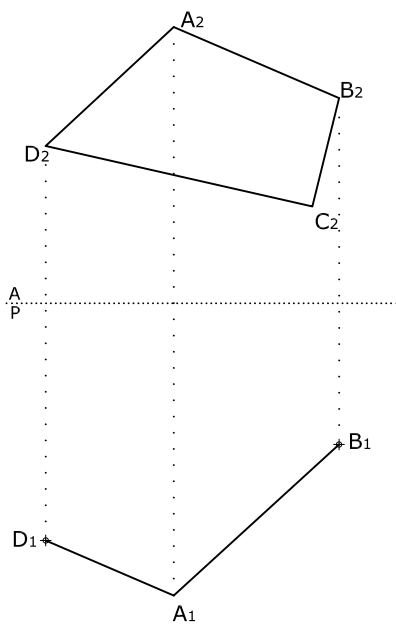
1. Determinar la visibilidad del conjunto



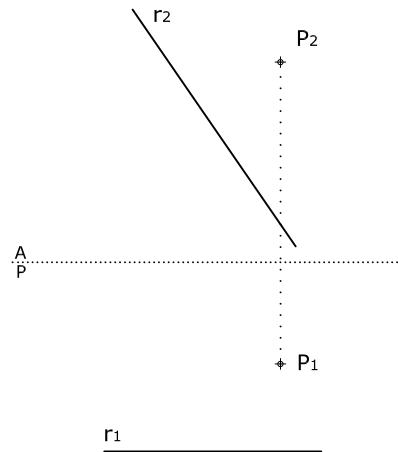
2. Determinar la visibilidad del conjunto



3. Completar el plano ABCD.



4. Trazar la perpendicular por el punto a la recta.



Apellidos/Nombre:

Grupo:

Fecha de entrega